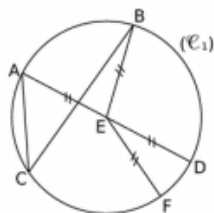
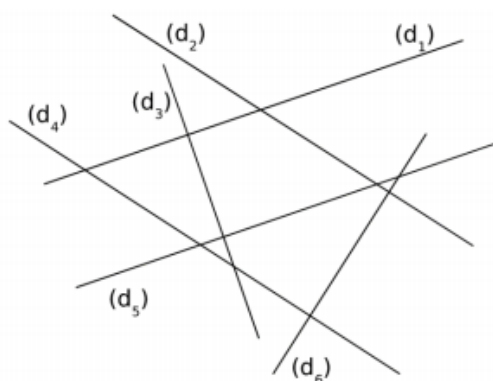


Exercice 1 : Connais-tu ton vocabulaire et les symboles ? (6 pts)



Complète par le mot qui convient
 Dans ce cercle,
 [AD] est un [EF] est un
 [AC] est une E est le
 E est le de [AD]

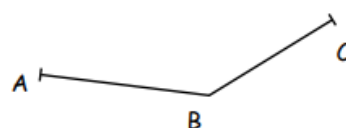


• Complète par parallèles, perpendiculaires, ou sécantes
 (d₁) et (d₅) sont
 (d₁) et (d₂) sont
 (d₃) et (d₅) sont
 (d₂) et (d₆) sont
 • Entoure vrai ou faux
 (d₄) ⊥ (d₆) vrai faux
 (d₄) ⊥ (d₃) vrai faux

Exercice 4 : Connaître la médiatrice (3 pts)

Trace la médiatrice (d) du segment [AB] et la médiatrice (d') du segment [BC].
 Les deux médiatrices se coupent en I. Place le point I.
 Trace le cercle de centre I et passant par A.

Que remarques-tu ?



Exercice 5 : Réfléchir (3 pts)

- Trace le cercle de centre A et de 3 cm de rayon
- Trace le cercle de centre B et de 3,5 cm de rayon
- Un point M est à de 3 cm de A et à 3,5 cm de B. Place M.
- Un point N est à moins de 3 cm de A et moins de 3,5 cm de B. Colorie la région où on peut placer N.