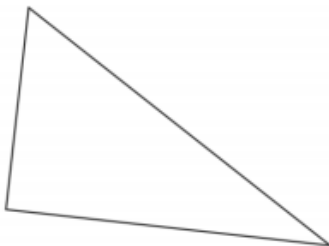
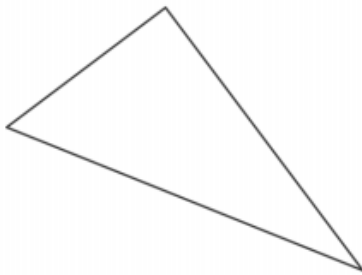
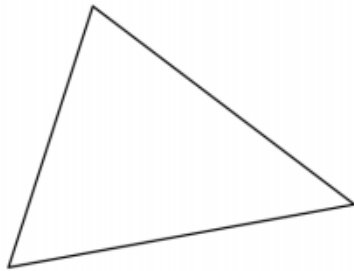



EXERCICE 1

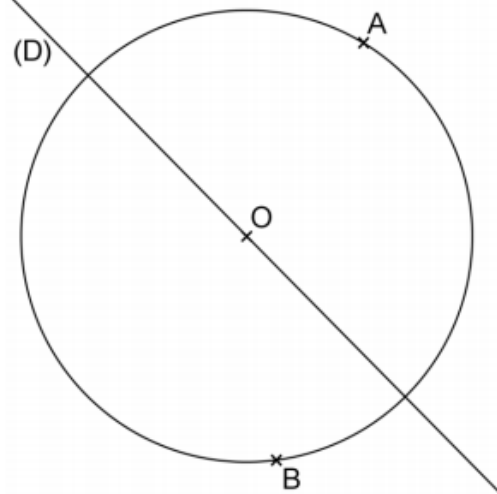
Construire les cercles circonscrits à ces 4 triangles.

**EXERCICE 2**

Retrouver le centre de ce cercle :

**EXERCICE 3**

Placer le point C pour que le cercle soit circonscrit au triangle, sachant que (D) est la médiatrice du côté [BC] :

**EXERCICE 4**

Construire le triangle FGH dont (D) et (D') sont des médiatrices :

