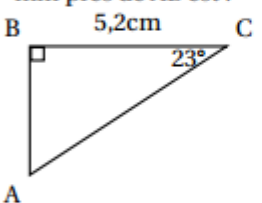
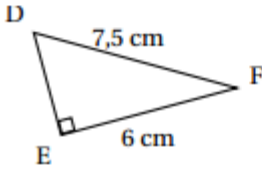
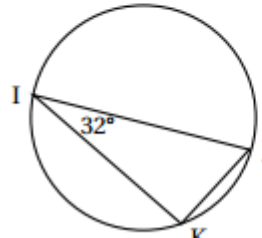


Activités géométriques : exercice 1

	A	B	C
<p>1. Avec les données de cette figure, l'arrondi au mm près de AB est :</p> 	4,8 cm	2,2 cm	2 cm
<p>2. Avec les données de cette figure, la longueur DE en cm est :</p> 	1,5 cm	9,6 cm	4,5 cm
<p>3. La section d'un cylindre par un plan parallèle à son axe est un :</p>	trapèze	rectangle	cercle
<p>4. Le point K appartient au cercle de diamètre [IJ] et \widehat{KI} mesure 32° alors :</p> 	\widehat{IK} mesure 32°	On ne peut pas calculer la mesure de \widehat{IK}	\widehat{IK} mesure 58°